

# Méli-Mélo Logico Test

*Reconnaissance de formes - Classification (les intrus) - Analogies - Arithmétique -  
Raisonnement logique - Culture générale*

1. Quel est l'intrus?

Chat - Lion - Chien - Tortue - Éléphant

2. Si vous remettez les lettres "UEGNAI" dans l'ordre, vous obtiendrez un nom de :

Rivière - Pays - Ville - Animal - Plante

3. Quel est l'intrus?

Céleri - Laitue - Oignon - Raisin - Asperge

4. Émilie a quatre ans. Sa grande sœur Annie est trois fois plus âgée qu'Émilie. Quel âge aura Annie lorsqu'elle ne sera plus que deux fois plus âgée qu'Émilie?

14 16 18 20 22

5. Quel est le prochain groupe de lettres dans cette série?

aaaa ... bdzb ... cgac ... djzd ...????

6. Nièce est à neveu ce que frère est à:

Cousine - Tante - Mère - Fille - Soeur

7. Le bol est aux céréales ce que l'enveloppe est à:

Facteur - Timbre - Lettre - Boîte aux lettres - Sacoche du courrier

8. Quel sera le chiffre suivant dans cette série?

2 ... 3 ... 5 ... 8 ... 12 ... 17 ...??

9. NOS est à SON ce que 8526 est à:

2856 - 6258 - 5862 - 5682 - 6852

10. Admettons que les propositions suivantes soient vraies :

a. Certains gardes-barrières sont guerriers

b. Certains guerriers sont lâches.

Donc, on peut conclure que certains gardes-barrières doivent être lâches.

Cette conclusion est-elle vraie ou fausse ?

11. Le cintre est au placard ce que l'arbre est à :

Branche - Buisson - Forêt - Sol - Nid

12. Quel sera le chiffre suivant dans cette série?

15 ... 12 ... 13 ... 10 ... 11 ... 8 ...?

13. Quel sera le chiffre suivant dans cette série?

144 ... 121 ... 100 ... 81 ... 64 ...??

14. Un fermier a 17 moutons. Tous sauf 9 meurent. Combien en reste-t-il?

15. Isabelle est plus rapide qu'Agnès et Nathalie est plus lente qu'Isabelle.  
Laquelle de ses propositions est vraie ?

- a) Nathalie est plus rapide qu'Agnès
- b) Nathalie est plus lente qu'Agnès.
- c) Nathalie est aussi rapide qu'Agnès
- d) Il est impossible de dire laquelle des deux est la plus rapide.

16. Diviser 30 par 1/2 et ajouter 10. Combien cela fait-il?

17. DIDIIDID est à 49499494 ce que DIIDIIDD est à:

94494499 - 49949944 - 49499494 - 94944949 - 49944949

18. Admettons que les propositions suivantes soient vraies :

- a. Tous les Dupont sont francs.
  - b. Toutes les personnes franches sont intelligentes.
- Donc, on peut conclure que tous les Dupont doivent être intelligents.

Cette conclusion est-elle vraie ou fausse?

19. Si vous remettez les lettres "NLIRBE" dans l'ordre, vous obtiendrez un nom de :

Rivière - Pays - Ville - Animal - Plante

20. La plante est à la graine ce que humain est à:

Ovaire - Sperme - Ovule - Utérus - Embryon

21. Admettons que les propositions suivantes soient vraies :

- a. Certains criminels sont millionnaires.
  - b. Tous les hommes d'affaires sont millionnaires.
- Donc, on peut en conclure que certains criminels doivent être des hommes d'affaires.

Cette conclusion est-elle vraie ou fausse?

22. Quel sera la prochaine lettre de cette série?

A ... C ... F ... J ... O ...?

23. 100 hommes d'affaires se réunissent pour un meeting. 85 possèdent un téléphone cellulaire, 80 possèdent un biper, 75 sont bilingue et 70 portent un costume. Quel est le nombre minimum de ceux ayant TOUS les attributs cités plus haut : un téléphone cellulaire ET un biper ET sont bilingue ET portent un costume.

10 - 15 - 17 - 18 - 20

# Méli-Mélo Logico Test



*Reconnaissance de formes - Classification (les intrus) - Analogies - Arithmétique -  
Raisonnement logique - Culture générale*

24. Joël a perdu son job à mi-temps (temps partiel), ce qui réduit de 20% le revenu familial. Sa femme Sonia décide de faire des heures supplémentaires pour compenser le manque de revenu. Toutes choses étant égales par ailleurs, de quel pourcentage le salaire de Sonia doit-il augmenter pour que les revenus du couple retrouvent leur niveau d'avant la perte du travail.

20% - 25% - 30% - 35% - 40%

25. Quel sera le chiffre suivant dans cette série?

2 ... 4 ... 8 ... 16 ... 32 ...??

26. Après-midi est un mot?

- Masculin
- Féminin
- Masculin et féminin

27. Que boit la vache?

- Je ne sais pas
- Du lait
- De l'eau
- De la bière

28. Quel sera le chiffre suivant dans cette série?

3 ... 5 ... 10 ... 12 ... 24 ... 26 ...??

29. Quel est l'intrus?

Libéral - Démocrate - Conservateur - Presbytérien - Socialiste

30. Laurent a reçu de sa grand-mère de l'argent pour son anniversaire. Il a tout dépensé dans cinq magasins. Dans chaque boutique, il a dépensé 1 \$ de plus que la moitié de ce qu'il avait en entrant. Quelle somme d'argent Laurent a-t-il reçu de sa grand-mère?

\$7.50 - \$25 - \$30 - \$46 - \$62

31. Compléter la dernière ligne

1 1 1 2  
3 1 1 2  
1 3 2 1 1 2

-----

32. Copernic était un célèbre:

Voyageur - Peintre - Musicien - Écrivain - Astronome

33. Quel est l'intrus?

Lomè - Téhéran - Madrid - Havane - Munich

34. Quel sera le chiffre suivant dans cette série?

1 ... 2 ... 3 ... 5 ... 8 ... 13 ... 21 ... 34 ...??

35. Votre fille Juliette et son amie Jacynthe ont inventé un alphabet secret. Vous avez trouvé un message écrit par Juliette à Jacynthe, utilisant cet alphabet secret. Juliette vous explique que cela signifie :

Salut Jacynthe,

Hier,?????? m'a demandé de sortir avec lui. Juliette

Vous désirez ardemment savoir qui est le garçon dont il est question, mais elle ne veut pas vous le dire. Pouvez-vous déduire le nom à partir de ce message secret.

Cljpw Nlxhuwdi,

Dzib, Tlbwzu t'l eitluef ei cqbwzb laix jpz. Npziwwi

36. Jules César :

- a) est mort de cause naturelle
- b) s'est tué dans un accident de cheval.
- c) est mort au combat
- d) s'est suicidé.
- e) a été assassiné.

37. La lumière est à la fenêtre ce que l'air est à:

Vent - Suffocation - Souffle - Filtre - Atmosphère

38. Des vieilles dames se réunissent pour prendre le thé. Elles amènent toutes leurs chats. En tout, il y a 22 têtes et 72 pieds. Combien de vieilles dames et combien de chats sont dans la pièce?

- a) 6 vieilles dames et 16 chats
- b) 7 vieilles dames et 15 chats
- c) 8 vieilles dames et 14 chats
- d) 9 vieilles dames et 13 chats
- e) 10 vieilles dames et 12 chats

39. Si vous remettez les lettres "NOEMAURC" dans l'ordre, vous trouverez un nom de :

Rivière - Pays - Ville - Animal - Plante

40. Un nénuphar se trouve dans un lac. Tous les jours il double de taille. Au bout du 15 jours, il fait la moitié du lac, au bout de combien de temps recouvrira-t-il le lac entièrement ?

41. Napoléon a perdu sa dernière bataille à

Moscou - Waterloo - Leipzig - Berlin - Paris

# Méli-Mélo Logico Test

Reconnaissance de formes - Classification (les intrus) - Analogies - Arithmétique -  
Raisonnement logique - Culture générale



42. Georges vient de passer un test où chaque question avait la même valeur. 10 de ses réponses étaient incorrectes. Son score final est de 60% de réussite. Combien y avait-il de questions dans le test?

15 - 20 - 25 - 30 - 35

43. Une voiture est au carburant ce qu'une cafetière est à :

Filtre - Café - Électricité - Plaque chauffante - Plastique

44. Pierre donne un coup de main à son prof de gym. Le prof lui demande d'aller chercher 16 ballons. Pierre ne peut transporter que 3 ballons à la fois. Combien de trajets Pierre aura-t-il besoin de faire?

4 - 4½ - 5 - 5½ - 6

45. L'aspirateur est au tapis ce que le balai est à :

Poussière - Tapis - Carpepe - Pelle à poussière - Plancher

46. Pierre était classé à la fois 15e meilleur et 15e plus mauvais joueur d'un tournoi de tennis. Combien de participants le tournoi a-t-il compté?

28 - 29 - 30 - 31 - 32

47. Le papier est au bois ce que le marteau est à :

Laine - Verre - Eau - Air - Métal

48. Quel sera le chiffre suivant dans cette série?

32 ... 36 ... 9 ... 12 ... 4 ... 6 ... ?

49. Quel sera le chiffre suivant dans cette série?

135 ... 45 ... 180 ... 60 ... 240 ... 80 ... ???

50. Quel est l'intrus?

Huître - Tortue - Crabe - Escargot - Salamandre

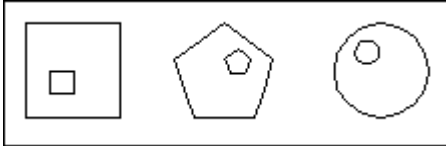
51. Quel est l'intrus?

Cheval - Grison - Chevreuil - Zèbre

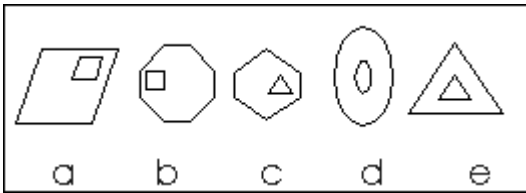
52. Simon loue une voiture en ville pour aller skier 100 kilomètres plus loin. Il s'arrête à mi-chemin pour passer prendre son amie Nina et parcourt les 50 kilomètres restants avec elle. Au retour, il dépose Nina chez elle et rentre seul en ville. Il rend la voiture et paye 50 dollars de location et 10 dollars d'essence. Simon et Nina partagent équitablement les frais. Combien Nina devra-t-elle payer?

10 - 15 - 20 - 25 - 30

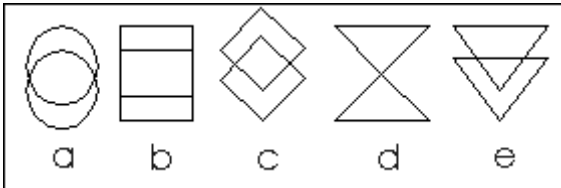
53. Quelle sera la prochaine image de cette série?



Choisir l'une des 5 suivantes :



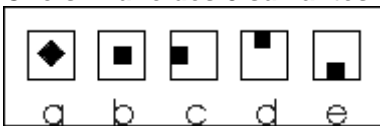
54. Quel est l'intrus?



55. Quelle sera la prochaine image de cette série?



Choisir l'une des 5 suivantes :



56. Quelle sera la prochaine image de cette série?



Choisir l'une des 5 suivantes :



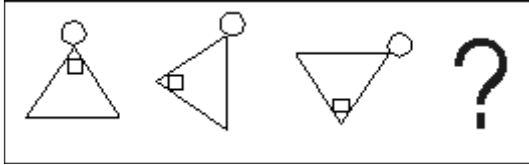
57.



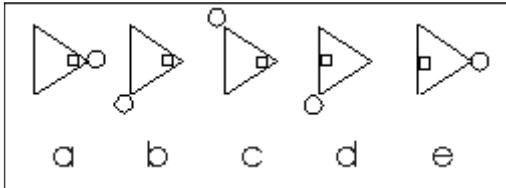
Choisir l'une des 5 suivantes :



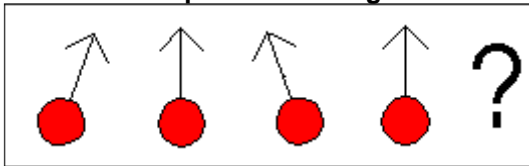
58. Quelle sera la prochaine image de cette série?



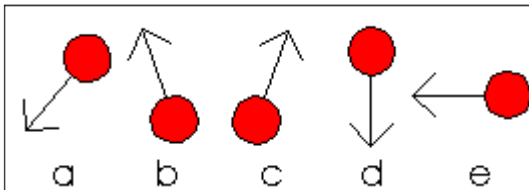
Choisir l'une des 5 suivantes :



59. Quelle sera la prochaine image de cette série?



Choisir l'une des 5 suivantes :



60. Un fermier a 17 moutons. Tous sauf 9 meurent. Combien en reste-t-il?

61. Continuez la suite logique: 4-9-17-35-69-?

62. Que boit la vache?

Je ne sais pas

Du lait

De l'eau

De la bière

63. Après-midi est un mot?

Masculin

Féminin

Masculin et féminin

64. Quand vous doublerez le second, vous serez alors le...

premier - deuxième - avant dernier - dernier

Résultat :      /64